

Soru İşareti

Soru işaretlerinin yerine hangi rakamlar gelecek?

7	1	8	2	9	1	6	1	??	
4	6	4	9	5	5	8	9	1	9

Hangisi Doğru

Bir test sorusunun cevap şıkları aşağıda verilmiştir. Bu şıklardan sadece biri doğrudur. Doğru olan şıkkı işaretleyin.

- Şıkların hiçbiri doğru değil
- Şıkların hepsi doğru
- Aşağıdakilerin hepsi doğru
- Aşağıdakilerden hiçbiri doğru değil
- Yukarıdakilerden biri doğru
- Yukarıdakilerden hiçbiri doğru değil
- Yukarıdakilerden hiçbiri doğru değil

Pazartesi

Yirminci yüzyılın en son hangi ayı Pazartesi günüyle başlayıp, Pazartesi günüyle bitmiştir? Yıl ve ay olarak bulunuz.

Sihirli Çarpım Karesi

1'den 15'e kadar olan 15 sayıdan 9 tanesini karelere öyle yerleştirin ki; her sıradaki ve her kolondaki üçer sayının çarpımları aynı sonucu versin.

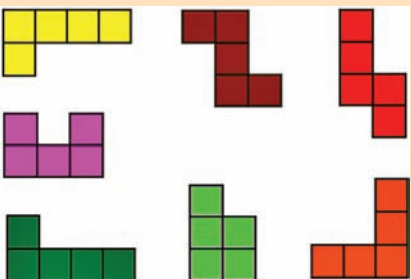
• Mor karedeki sayı, kırmızı karedeki sayıdan 1 fazladır.

• Kırmızı karedeki sayı, mavi karedeki sayıdan 1 fazladır.

• Mavi karedeki sayı, yeşil karedeki sayıdan 1 fazladır.

Dört Şekil

Aşağıdaki parçalardan birini iki kez, diğerlerini ise birer kez kullanarak dört eşit şekil elde ediniz. Parçalar döndürülebilir ama ters çeviremez.




Sayılar

Aşağıdaki 22 sayıyı (yazılışlarını) soldan-sağa veya yukarıdan-aşağıya okunacak biçimde kutulara yerleştiriniz.

• İki sayı ardarda ise aralarına siyah kare(ler) koymalısınız.

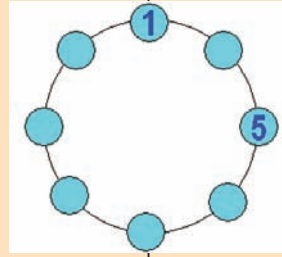
• Dilediğiniz kareleri siyaha boyayabilirsiniz.



BİR	OTUZ
İKİ	KIRK
ÜÇ	ELLİ
DÖRT	ALTMİŞ
BES	YETMİŞ
ALTI	SEKSEN
YEDİ	DOKSAN
SEKİZ	YÜZ
DOKUZ	BİN
ON	MİLYON
YİRMİ	MİLYAR

Daireler

Sekiz adet farklı rakamı boş dairelere öyle yerleştirin ki; 1'den 15'e kadar olan 15 sayının tamamı dairelerin ya kendisinin



de bulunsun ya da yanına bulunan iki dairenin toplanması sonucunda elde edilsin.

• İki sayıyı sizin için biz yerleştirdik.




Göz

Aldanması

Birinci şekilde yeşilden siyaha doğru içiçe geçmiş 5 adet kare,

ikinci şekilde 15 kare, üçüncü şekilde ise

25 kare görülüyor. Kare sayısı arttıkça "X" harfine benzer bir şekil algılıyoruz. Tabii ki



gözümüz bizi yanıltıyor.

Geçen Ayın Çözümleri

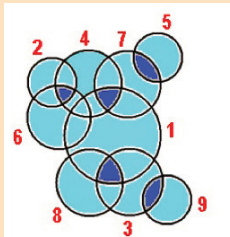
Soru İşareti

Şekilde, üç tabakalı bir otamda oluşabilecek tüm ışın yansımaları (0, 1, 2 ve 3 yansıma) karışık olarak verilmiştir. Üç yansımali beş şekilden dördü verilmiştir. Eksik olan şekil aşağıdadır.



Saat
60

Daireler



Zarlı Üçgenler



Küp Kesimi

9 kesme işlemi.

Filler

11664 farklı yerleşim.

Dokuz Harf

A	B	C	D	E	F	G	H	I
15	12	10	8	5	4	3	2	1